

Mesures d'aires et de périmètres

Calcule le périmètre et l'aire de chacune des figures suivantes :

Un carreau mesure 1 cm de côté.

1) Exemple: 5 cm




Calculs : $2+5+2+5$

Périmètre : 14 cm

Calculs : 2×5

Aire : 10 cm^2 .

2)



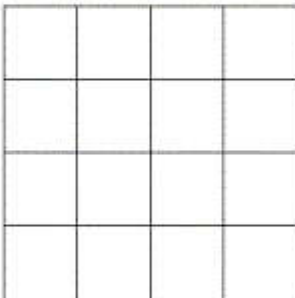
Calculs : $6+1+6+1$

Périmètre : 14 cm

Calculs : 6×1

Aire : 6 cm^2 .

3)



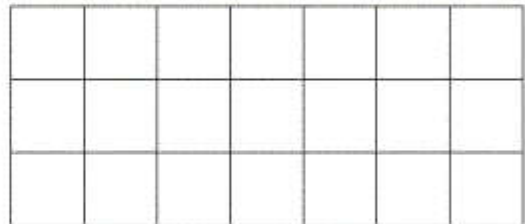
Calculs : $4+4+4+4$

Périmètre : 16 cm

Calculs : 4×4

Aire : 16 cm^2 .

4)



Calculs : $7+3+7+3$

Périmètre : 20 cm

Calculs : 7×3

Aire : 21 cm^2 .

5)



Calculs : $6+3+6+3$

Périmètre : 18 cm

Calculs : 6×3

Aire : 18 cm^2 .

6)



Calculs : $8+2+8+2$

Périmètre : 20 cm

Calculs : 8×2

Aire : 16 cm^2 .