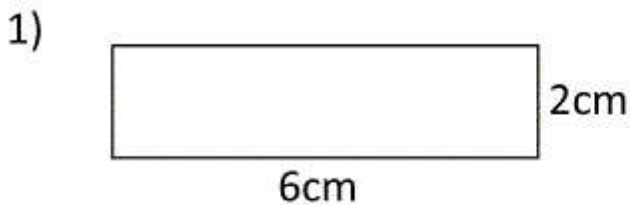


Mesures d'aires et de périmètres

Calcule le périmètre et l'aire de chacune des figures suivantes :

Attention, les mesures indiquées ne sont pas réelles !



Calculs : $6+2+6+2$

Périmètre : 16 cm

Calculs : 6×2

Aire : 12 cm^2 .

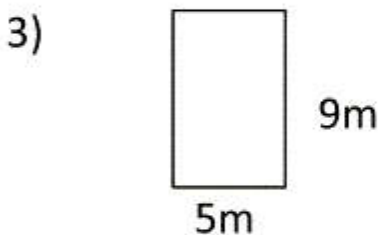


Calculs : $2 \times 5 + 2 \times 3$

Périmètre : 16 mm

Calculs : 5×3

Aire : 15 mm^2 .

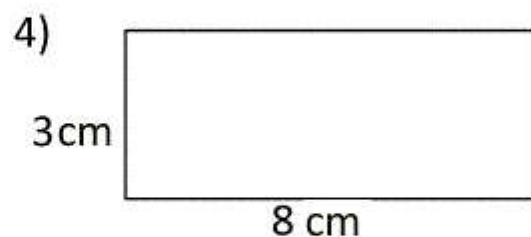


Calculs : $2 \times (9+5)$

Périmètre : 28 m

Calculs : 9×5

Aire : 45 m^2 .

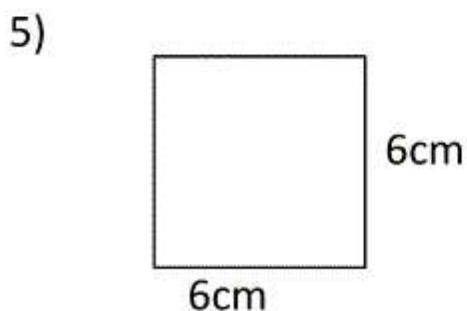


Calculs : $2 \times 8 + 2 \times 3$

Périmètre : 22 cm

Calculs : 8×3

Aire : 24 cm^2 .

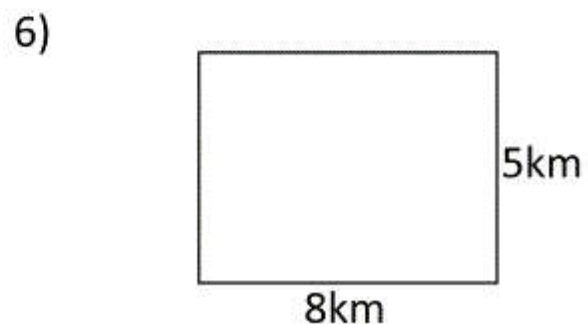


Calculs : 4×6

Périmètre : 24 cm

Calculs : 6×6

Aire : 36 cm^2 .



Calculs : $2 \times (5+8)$

Périmètre : 26 km

Calculs : 8×5

Aire : 40 km^2 .