

# Mesures d'aires et de périmètres

Calcule le périmètre et l'aire de chacune des figures suivantes :

Un carreau mesure 1cm de côté.

1) Exemple: 5 cm




Calculs :  $2+5+2+5$  .....

**Périmètre** : ..... 14 ..... cm

Calculs :  $2 \times 5$  .....

**Aire** : ..... 10 .....  $\text{cm}^2$ .

2)



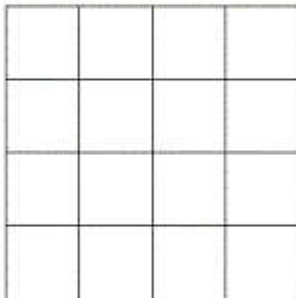
Calculs : .....

**Périmètre** : ..... cm

Calculs : .....

**Aire** : .....  $\text{cm}^2$ .

3)



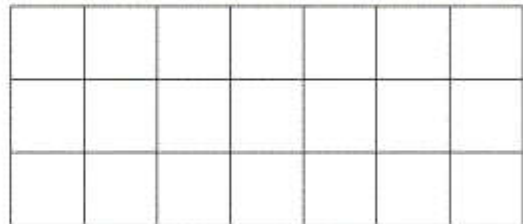
Calculs : .....

**Périmètre** : ..... cm

Calculs : .....

**Aire** : .....  $\text{cm}^2$ .

4)



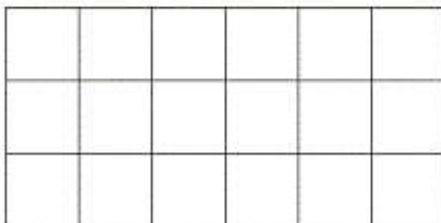
Calculs : .....

**Périmètre** : ..... cm

Calculs : .....

**Aire** : .....  $\text{cm}^2$ .

5)



Calculs : .....

**Périmètre** : ..... cm

Calculs : .....

**Aire** : .....  $\text{cm}^2$ .

6)



Calculs : .....

**Périmètre** : ..... cm

Calculs : .....

**Aire** : .....  $\text{cm}^2$ .