

1 Combien de fraises contient cette barquette ?

___ x ___ = ___ + _____ = _____


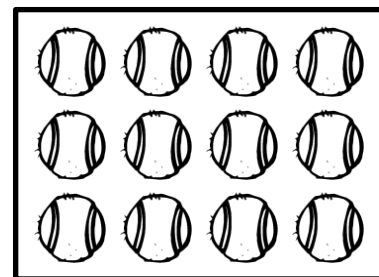
___ x ___ = ___ + _____ = _____




2 Combien de balles y a-t-il dans cette boîte ?


___ = _____ = _____

___ = _____ = _____




3 Anatole range ses petites voitures. Il fait 4 rangées de 7 voitures.
Combien de voitures a-t-il en tout ?

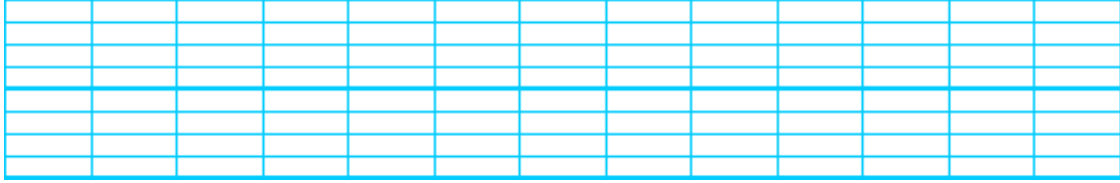





1 Combien de carreaux contenait cette tablette de chocolat avant d'être croquée par Mathis ?




Two horizontal lines for writing the answer.



2 Dans son potager, Monsieur Couvert a planté 3 rangées de 8 choux. Combien de choux a-t-il plantés en tout ?



A horizontal line for writing the answer.



3 Colorie toutes les étiquettes qui correspondent au nombre de boutons.

4 + 4 + 4 + 4 + 4 + 4 + 4


7 + 7

7 x 4

28

4 x 7

35



4 + 7 + 4 + 7 + 4 + 7 + 4

7 x 7

4 + 7

7 + 7 + 7 + 7