

PROBLEMES



TABLEAU DE SUIVI

1	2	3	4	5	6	
11	10	9	8	7		
12	13	14	15	16	17	
				20	19	18



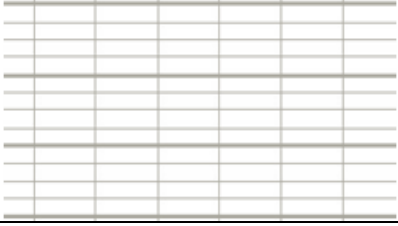
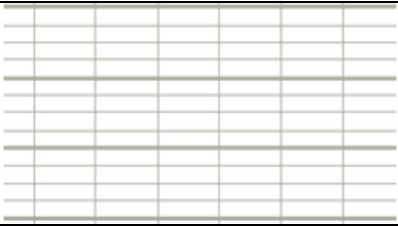
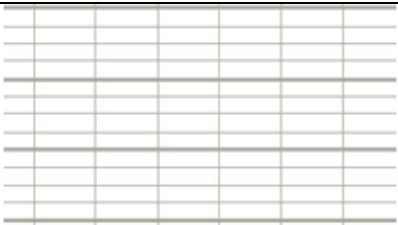
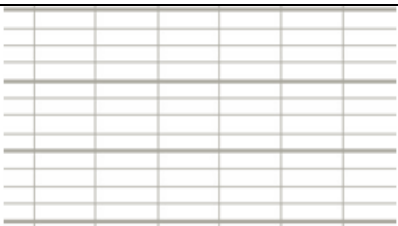
C6	Un lustre est équipé de huit ampoules. Combien faudra-t-il d'ampoules pour équiper 5 lustres ?

C7	La voiture fait des tours de piste pendant 36 minutes. Elle met 3 minutes pour faire 1 tour. Combien de tours a-t-elle faits ?

C8	L'école compte 218 petits cahiers dans ses armoires. Pour préparer la rentrée, la directrice de l'école commande encore 525 cahiers. Combien de cahiers aura-t-elle à la rentrée ?

C9	Dans son jardin, grand-père avait compté 36 petites tomates avant de partir en vacances. Lorsqu'il est revenu de vacances, il a compté 93 tomates. Combien de tomates ont poussé durant son absence ?

C10	Dans le champ, l'agriculteur a ramené 16 nouveaux moutons. Maintenant, son troupeau compte 125 moutons au total. Combien de moutons avait-il au départ ?

C11	<p>La maîtresse a compté 63 crayons gris et 49 crayons de couleur dans la classe. Combien de crayons compte-t-elle au total ?</p>	
C12	<p>Mamie a planté 48 fleurs dans son jardin. Il y a des tulipes ou des roses. Elle se souvient qu'il y avait 24 tulipes. Combien y avait-il de roses ?</p>	
C13	<p>Dans une caisse de supermarché, il y a 24 billets de 100 euros. Quelle somme y a-t-il en euros dans la caisse ?</p>	
C14	<p>Sur le jeu de l'oie, j'avance de 5 cases en 5 cases. Combien me faudra-t-il de coups pour arriver à la case 60 en partant de la case départ ?</p>	
C15	<p>Des arbres sont plantés régulièrement comme sur quadrillage. Il y a 30 lignes d'arbres et chaque ligne compte 7 arbres. Combien d'arbres y a-t-il en tout ?</p>	